

1 次の会話文を読み、あとの問いに答えなさい。

生徒：こんにちは先生。先生は Ado さんを知っていますか？

先生：2021 年の①「流行語大賞」にも選出された「うっせえわ」を歌われていた方ですね。

生徒：その Ado さんが昨年の NHK の紅白歌合戦で京都の②東本願寺で歌っていたのが中継されていましたよ。

先生：そうですね。Ado さんがパフォーマンスをされていたのは「③能舞台」。実は Ado さんの芸名は、能舞台で演じられる狂言の「シテとアド(Ado)」からきているそうですよ。

生徒：それで Ado さんのファーストアルバムの名前が「狂言」だったのかな。なんとなく教科書の中だけのものだと思っていた歴史や文化が、身近なものに感じられますね。

問1 下線部①について、歴代の新語・流行語大賞 (A) ～ (C) を古い順番に並べたものとして正しいものを選択肢から選び、記号で答えなさい。

- (A) バブル経済が崩壊したことを背景に、「複合不況」の名を冠する書籍がベストセラーとなった。
- (B) ソ連の指導者のゴルバチョフが「ペレストロイカ」と呼ばれる政治改革を行い、ソ連解体に繋がった。
- (C) 内閣支持率が低迷する中で行われた総選挙で与党自民党が大敗し、民主党へと「政権交代」した。

- ア. (A) → (B) → (C) イ. (A) → (C) → (B) ウ. (B) → (C) → (A)
エ. (B) → (A) → (C) オ. (C) → (B) → (A) カ. (C) → (A) → (B)

問2 下線部②について、この寺院は親鸞を宗祖とする。この寺院の宗派として正しいものを選択肢から選び、記号で答えなさい。

- ア. 浄土宗 イ. 日蓮宗 ウ. 臨済宗 エ. 浄土真宗

問3 下線部③について、これに関係する文章 (A)・(B) と、関係する写真 (C)・(D) の組み合わせとして正しいものを選択肢から選び、記号で答えなさい。

〈人物〉

- (A) 出雲阿国が京で開始した「ややこ踊り」から発展したものである。
- (B) 観阿弥と世阿弥の親子が足利義満の保護を受けて大成させたものである。

〈写真〉

(C)



(D)



- ア. (A) と (C) イ. (A) と (D) ウ. (B) と (C) エ. (B) と (D)

2 次の年表を見て、あとの問いに答えなさい。

時 代	主 な 出 来 事
安土桃山	織田信長が安土城を築く ・ ・ ・ ・ ・ (A) 豊臣秀吉が天下を統一する
江 戸	幕府成立 ・ ・ ・ ・ ・ (B) 田沼意次が老中となる ・ ・ ・ ・ ・ (C) ペリーが浦賀に来航する ・ ・ ・ ・ ・ (D)
明 治	日清戦争が勃発する ・ ・ ・ ・ ・ (E) 日露戦争が勃発する ・ ・ ・ ・ ・ (F)
大 正	第一次世界大戦が勃発する
昭 和	満州事変が起こる ・ ・ ・ ・ ・ (G) 高度経済成長が始まる ・ ・ ・ ・ ・ (H)

問 1 年表中 (A) の織田信長に関係の深い次の出来事①～④を、古い順番に並べたものとして正しいものを選択肢から選び、記号で答えなさい。

① 長篠の戦い ② 本能寺の変 ③ 桶狭間の戦い ④ 室町幕府滅亡

ア. ③→④→①→② イ. ④→③→①→② ウ. ①→③→④→② エ. ①→④→③→②

問 2 年表中 (B) について、3 代家光がおこなった事柄として誤っているものを選択肢から選び、記号で答えなさい。

- ア. 九州でおこった島原・天草一揆を鎮圧した。
- イ. 平戸のオランダ商館を出島に移した。
- ウ. 武家諸法度に参勤交代の制度を加えた。
- エ. 外国との貿易を開始して、大名や商人に朱印状を交付した。

問 3 年表中 (C) について、関係の深いものを選択肢から選び、記号で答えなさい。

- ア. 参勤交代を緩和し、大名に対して年貢を幕府へ納めさせた。
- イ. 商業奨励により財政再建に力を入れたが、天明の飢饉が起きた。
- ウ. 生類憐みの令を廃止して貨幣の改鑄をすすめた。
- エ. 飢饉に備えて、年貢を蓄えた。

問 4 年表中 (D) について、アメリカと条約を結び貿易を始めたが、当初の様子として正しいものを選択肢から選び、記号で答えなさい。

- ア. 外国と対等になり、日本の国力が向上した。
- イ. 日本の物価が高騰し、下級武士や町人の生活が苦しくなった。
- ウ. 日本からの貿易船が増え、海外に日本町が建設された。
- エ. 外国製の機械が導入され、紡績などの工業が盛んになった。

問5 年表中（E）～（F）の前後にあった事柄について、次の①～④を古い順番に並べたものとして正しいものを選択肢から選び、記号で答えなさい。

① 初期議会の開催 ② 官営八幡製鉄所の操業 ③ 韓国併合 ④ 関税自主権の完全回復

ア. ③→④→①→② イ. ④→③→①→② ウ. ①→③→④→② エ. ①→②→③→④

問6 （F）時期の国際情勢を表した風刺画として正しいものを選択肢から選び、記号で答えなさい。

ア.



イ.



ウ.



エ.



問7 年表中（G）について、このあと日本は国際連盟を脱退した。次の資料はこれに関する資料を意識したものである。これを読み、この資料の名称（A）・（B）と、資料をふまえた説明（C）・（D）の組み合わせとして正しいものを選択肢から選び、記号で答えなさい。

資料

満州国の創設は、日本軍の存在と、日本の文武の官僚の活動なしにはできなかったであろうことがわかった。…（中略）…現在の満州国の政権は、純真かつ自発的な現地人の独立運動によって出現したものだと考えることはできない。…（中略）…（日中対立の原因となっている）日本製品に対する中国国民の「ボイコット」は強い国民的感情にもとがあり、この感情によって行われていることであるが、指導的な団体により指導されているものであること、脅迫に等しい方法で民衆に行わせているものであるとも結論づける。ボイコットの組織化には多数の個別的団体が関係しているが、主たるものは中国国民党（政府）である。

〈資料の名称〉 (A) リットン報告書 (B) ポツダム宣言

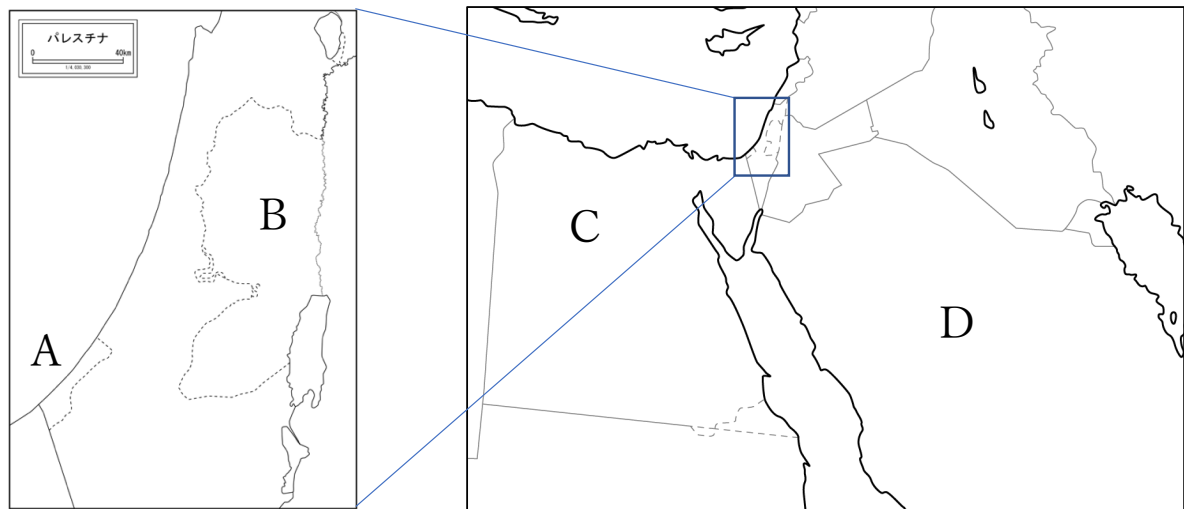
〈説明〉 (C) 日本軍が満州建国に関わっているが、中国国民党が主たる指導を行っていると判断している。
 (D) 満州事変の原因であるボイコットは中国政府にも原因があることを指摘している。

ア. (A) と (C) イ. (A) と (D) ウ. (B) と (C) エ. (B) と (D)

問8 年表中（G）～（H）の間の出来事として、誤っているものを選択肢から選び、記号で答えなさい。

ア. 日中戦争 イ. 朝鮮戦争 ウ. ラジオ放送開始 エ. 二・二六事件

3 次の地図と会話文を確認し、あとの問いに答えなさい。



生徒：ウクライナに続き、「ガザ地区」でも大きな紛争が継続して行われています。ガザ地区はどこですか？

先生：パレスチナと呼ばれる国にありますね。地図上の A と B の飛び地になっていますが、(X) がガザ地区です。

生徒：なぜ紛争が起こっているのですか。

先生：直接的にはガザ地区のハマスという組織のテロ行為に対する報復ですが、歴史的に見れば、20 世紀前半のシオニズムやイスラエル建国が大きく関連しています。

生徒：国連の安保理では紛争を止められないのではないのでしょうか。

先生：「停戦決議案」が出されましたが、安全保障理事会の常任理事国である五つの大国のうち、(E) 否決されています。ウクライナ戦争のときにも、やはりロシアがそうしたために即時撤退の決議が否決されました。

問1 空欄 (X) について、ガザ地区は A と B のどちらか。解答欄に記せ。

問2 (C) ・ (D) の国の名称を解答欄に記せ。

問3 (C) の南と西の国境は、地球の経度や緯度に基づいて直線的に引かれたものである。アフリカなどにしばしば見られるこういった国境について、**国境の名称を明記しつつ、こういった国境が引かれた歴史的な背景**を 30 文字以内で説明せよ。

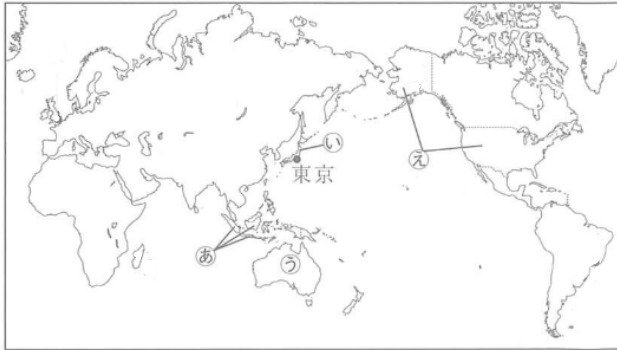
問4 (C) はかつて、イスラエル・パレスチナをめぐる紛争の際、「アラブの盟主」に等しい立場でイスラエルと激しく対立した。(C) を含むアラブ連合軍とイスラエルの間に複数回行われた戦争をなんというか。解答欄に漢字で記せ。

問5 (D) に二箇所、聖地を持つ世界宗教の名称を解答欄に記せ。

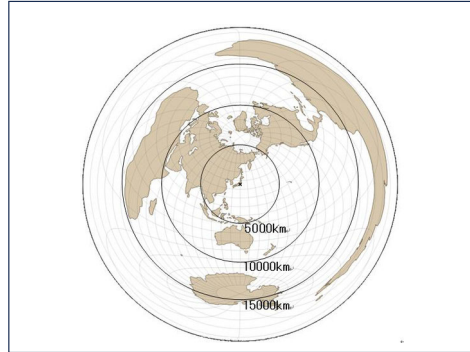
問6 (E) に入る文を、五大国にのみ認められた**権限**とその**権限を発動した国**の名称を明記しつつ 15 文字程度で記入しなさい。

4 次の地図を見て、あとの問いに答えなさい。

<地図 1>



<地図 2>



問1 <地図 1>、<地図 2>の地図の【特徴】として正しいものをそれぞれ選択肢から選び、記号で答えなさい。また、どのような【用途】で使用するのに適しているかそれぞれ選択肢から選び、記号で答えなさい。

【特徴】

- ア. 経線と緯線が直角に交わるように描いた世界地図である。
- イ. 図の中心からの方位と距離を正しく描いた世界地図である。
- ウ. 大陸の面積を正しく描いた世界地図である。

【用途】

- I. 分布図や密度図など、広がりを示す表現が必要な場合
- II. 飛行機での最短距離や方位をみるため
- III. 航海の際に目的地にたどり着くため

問2 下記の文章は<地図 1>のその他の特徴について述べた文である。文中の A にあてはまる文章を、「赤道」という語句を使用し、10 字程度で答えなさい。

地図 1 では、A ほど面積がより大きく表されている。

問3 地図中①・②のうち、どちらが早く 1 月 1 日を迎えるか。記号で答えなさい。

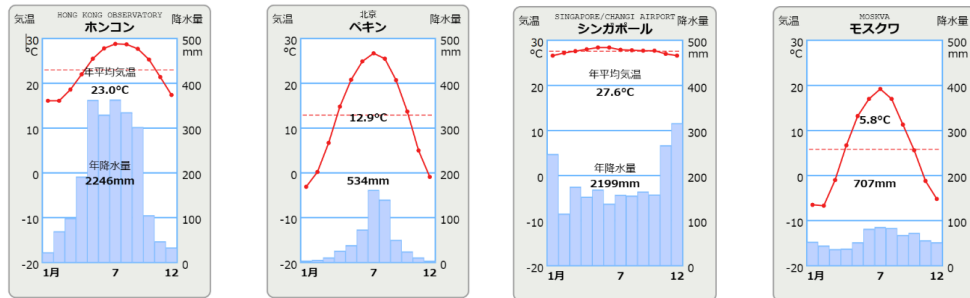
問4 下記の表は、2019 年における、<地図 1>中の③～⑤の各国の穀物自給率を一覧を表したものである。表中の a～d は、それぞれ③～⑤のどれと対応するか。a～d に当たる国をそれぞれ③～⑤から選び、記号で答えなさい。

国	穀物自給率 (%)
a	182
b	33
c	116
d	89

5 次の資料 1・2 を見て、あとの問いに答えなさい。

資料 1 中国の農業は自然環境と結びついて発展した。中国は（ A ）の影響を強く受け、夏には（ B ）から吹く風がもたらす雨によって、国土の東側は農業に適した地域となっている。年間降水量が 1000mm を超えない場所では、小麦の栽培が盛んで、超える場所では米の栽培が盛んであることがわかった。（ C ）流域では小麦の栽培が盛んで、（ D ）流域では、米の栽培が盛んである。

資料 2



問 1 資料 1 の(A)～(D)に入る語句の組み合わせとして適当なものを選択肢から選び、記号で答えなさい。

- ア. (A) 季節風 (B) 北西 (C) 黄河 (D) 長江
 イ. (A) 季節風 (B) 東南 (C) 黄河 (D) 長江
 ウ. (A) 貿易風 (B) 北西 (C) 長江 (D) 黄河
 エ. (A) 貿易風 (B) 東南 (C) 長江 (D) 黄河

問 2 資料 2 から読み取れることとして正しいものをすべて選択肢から選び、記号で答えなさい。

- ア. ペキンでは、平均気温が 0 度以下になる月もある。
 イ. ホンコンとペキンでは、気温の年較差がホンコンの方が大きい。
 ウ. モスクワでは、平均気温が 0 度を超える月はなく農業ができない地域である。
 エ. ペキンでは、米を使った料理が主食となっている。
 オ. ホンコンでは、年間の降水量が 1000mm を超えるので、小麦栽培が盛んである。
 カ. シンガポールは、毎月 100 mm 以上の雨が降っている。

問 3 ケッペンの気候区分についての、次の問いに答えなさい。

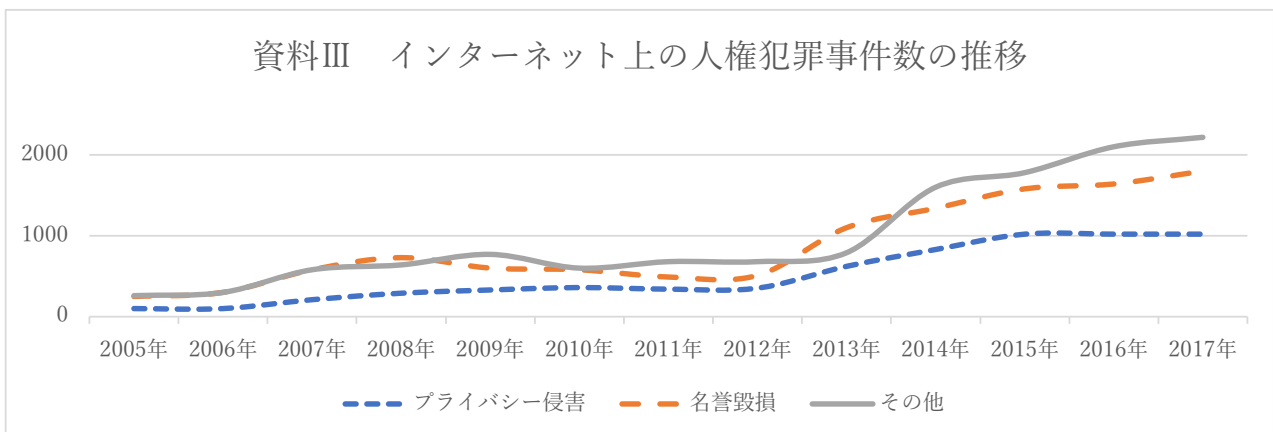
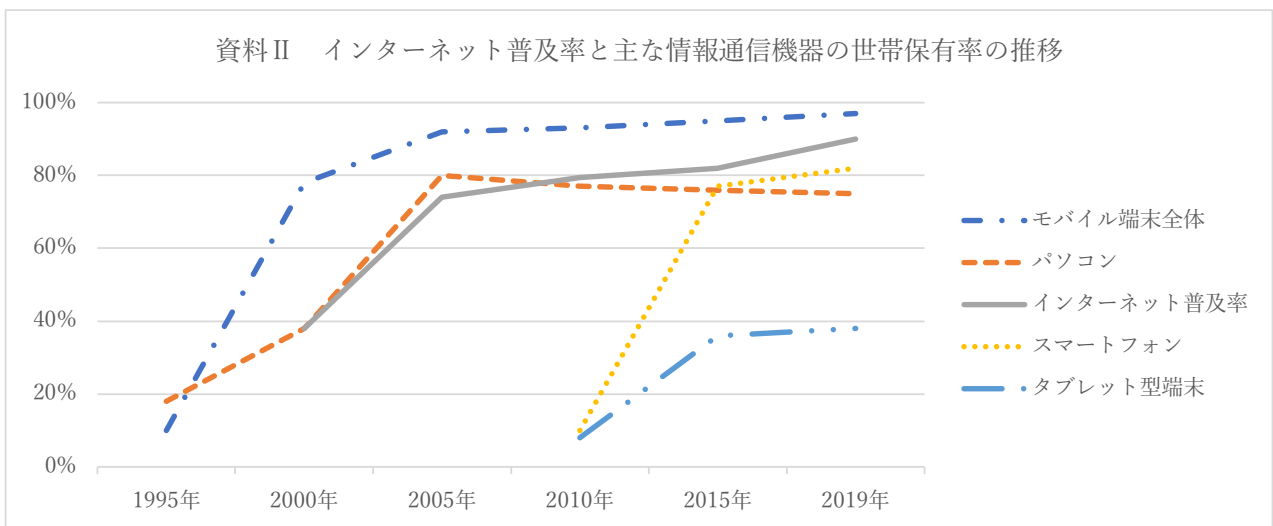
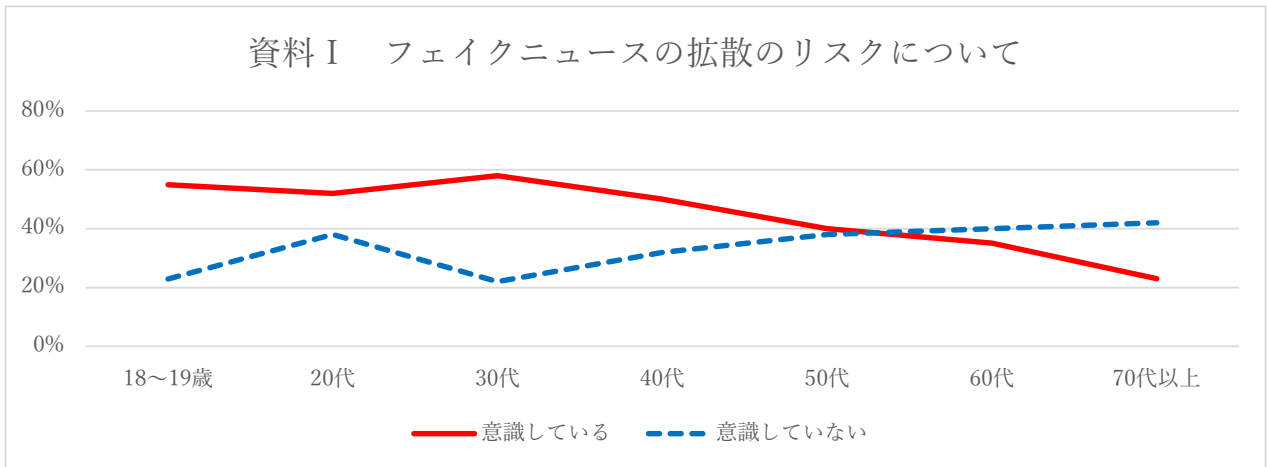
①次の都市のうち、熱帯と冷帯に定義されるものをそれぞれ選び、記号で答えなさい。

- ア. クアラルンプール イ. カイロ ウ. ロンドン エ. モントリオール

②ホンコンの気候区分について、当てはまる文章を選び、記号で答えなさい。

- ア. 1 年中降水量が多く、夏は蒸し暑く冬は寒冷になる温暖湿潤気候である。
 イ. 夏は熱くて乾燥し、冬に降水が集中する地中海性気候である。
 ウ. 1 年を通して適度に降水があり、気温の年較差が小さい西岸海洋性気候である。
 エ. 夏に降水が集中し、冬の降水が少ない温暖冬季少雨気候である。

- 6 次の資料は中根くんが「情報化社会」について集め、そこから読み取れることを分析しまとめた資料である。これをみて、あとの問いに答えなさい。



問1 資料から読み取れることとして最も適切なものを、選択肢から一つ選び、答えなさい。すべて誤っている場合は、「オ」と記入しなさい。

- ア. インターネットの人権犯罪事件が増えたのは、パソコンが急激に普及したときである。
- イ. インターネットでの人権犯罪急増の背景にはフェイクニュース拡散防止に意識的でない若者の存在がある。
- ウ. スマートフォンの普及は、世帯ごと情報端末機器保有率やインターネット回線普及率を 30%以上高めた。

問2 情報化社会について述べた文章として誤っているものを選択肢から選び、記号で答えなさい。すべて正しい場合は、「オ」と記入しなさい。

- ア. 住宅や車、家電などもインターネットと接続する IoT が生活の利便性を高めている。
- イ. 情報を正しく読み取り活かす能力として、情報モラルが重視されるようになった。
- ウ. 学習した膨大なデータから命令をもとに文章や画像を自動生成できる AI が登場した。

問3 「情報化社会」の他の「〇〇社会」について、現状の日本について述べた文章として誤っているものを選択肢から選び、記号で答えなさい。すべて正しい場合は、「オ」と記入しなさい。

- ア. 子どもが少なく高齢者の数が増えている少子高齢社会であり、また人口減少社会でもある。
- イ. 「親ガチャ」といった表現は、格差社会、学歴社会などから複合的に生じた現象をとらえたものである。
- ウ. 移民の制限が大幅緩和され、様々な国からの移民を積極的に受け入れる多文化共生社会になっている。

7 次の文章を読み、あとの問いに答えなさい。

人権学習を受けた中根くんは、そもそも「人権」とは何なのだろうかと興味を持った。図書館に行き、司書にたずねてみると、『古典で読む憲法』という本に「人権」に関する記述があった。読んでみると、以下のように書かれていた。

人権 (human rights) とは、「人間がただ人間であるということにのみもとづいて、当然に、もっていると考えられる権利」のことをいい、(…中略…) このような性質の権利が存在するとの考え方は歴史的に見れば比較的新しく、その原型がヨーロッパの政治哲学者によって唱えられるようになったのは 17 世紀以降のことであり、①それが各国において法制度化されるようになったのは 18 世紀末から 20 世紀にかけてのことである。

もう少し読み進めてみると、上記引用部の「ヨーロッパの政治哲学者」とは、『(A)』を著したイギリスのジョン・ロックであることがわかった。『A』では、人権概念の前提となる自然権の考え方が提示されており、このようなロックの考え方が、②アメリカ独立革命の理論的下地をなしたということもわかった。中根くんは、人権思想に基づいて様々な制度が創設され、私たちが今日当たり前だと考えるような諸権利が擁護されるようになってきたのだと理解し、③図書館を出ていった。

問1 『(A)』に当てはまる書名として正しいものを選択肢から選び、記号で答えなさい。

ア. 社会契約論 イ. リヴァイアサン ウ. 法の精神 エ. 統治二論

問2 文中の下線部①について、1946 年には日本国憲法が公布されたが、次の文章の空欄 (1)・(2) に入る語句の組み合わせとして正しいものを選択肢から選び、記号で答えなさい。

日本国憲法第 13 条には、「すべて国民は、個人として尊重される。生命、自由及び (1) に対する国民の権利については、(2) に反しない限り、立法その他の国政の上で、最大の尊重を必要とする。」

(1) A：利益追求 B：幸福追求
(2) C：公共の利益 D：公共の福祉

ア. A と C イ. A と D ウ. B と C エ. B と D

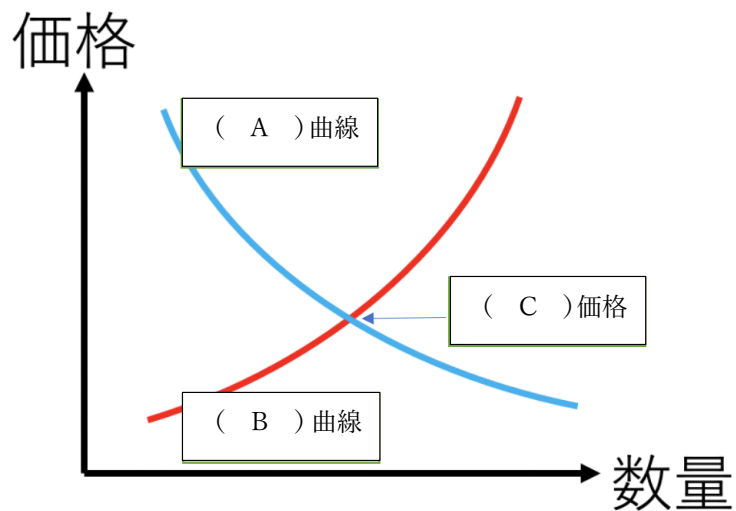
問3 文中の下線部②について、アメリカ独立戦争のさなかに採択され、世界で初めて自然権を明記したものとして最も適切なものを選択肢から選び、記号で答えなさい。

ア. フランス人権宣言 イ. ワイマール憲法 ウ. 権利章典 エ. ヴァージニア権利章典

問4 文中の下線部③について、表現の自由は、正しい情報にアクセスできてはじめてその真価を発揮すると考えられる。例えば図書館を通じて正確な情報を得たうえで、自らの意見を形成し、公表するというのはその一つのやり方だろう。このように批判的に民主主義を構成する市民が持つ、政府や地方公共団体の政治についての情報を得ることができる権利を何というか。

8 次の文章を読み、あとの問いに答えなさい。

消費者と生産者が財やサービスを自由に売り買いしている場を市場といいます。消費者が価格を見て買おうとする量を（ A ）量といい、生産者が価格を見て売ろうとする量を（ B ）量と言います。市場で決まる価格を市場価格といい、生産者も消費者も希望通りに取り引きしている状態の価格を（ C ）価格といいます。



問1 文中の（ A ）～（ C ）に当てはまる語句を漢字で答えなさい。

問2 図の曲線が「パソコン」に関してのものであるとする。バッテリーの原料となる鉱物の価格下落や、革新的な技術の開発で生産コストが下落した時、曲線はどのようにシフトし、価格はどうなることが予想されるか。選択肢の中から選び、記号で答えなさい。

- ア. A の曲線が右にシフトし、価格は下落する。
- イ. A の曲線が左にシフトし、価格は下落する。
- ウ. B の曲線が右にシフトし、価格は下落する。
- エ. B の曲線が左にシフトし、価格は下落する。

9 次の文章を読み、あとの問いに答えなさい。

生徒 A：先生、円安は輸出に有利だ、という話を聞いたのですが本当ですか。

先 生：たしかにその一面はあります。たとえば、1ドル＝100円から1ドル＝50円になるような変化が（ 1 ）です。アメリカ価格で1万ドルの車をアメリカに輸出するとしても、日本円にしたときの利益としては、円安のほうが大きくなりますね。

生徒 A：では、大谷翔平さんが仮に日本に帰国することがあれば、（ 2 ）のときに帰ってくるとより多くの円を手に入れられるということですね。

生徒 B：ところで、今年の流行語には、「悪い円安」という言葉もありました。①日本は貿易立国なのに円安がだめなのですか。

先 生：円安ということは、為替上は輸入で損なわけですね。そうすると、企業がモノを作るときの原材料費用や燃料費が高くなる。企業が利益を出しにくくなり、従業員の給与も上がらない。国民の給与が上がらない中での円安は、「日本人の労働力が（ 3 ）」ということになるんです。

生徒 A：一方で、海外からの日本旅行の観光客にとってはお買い得になるわけですね。僕たちの住む②京都市も、外国人観光客でごった返しています。

先 生：円高の時代に海外に出て行ってしまった第2次産業などの日本回帰も起こっていますよ。特に（ X ）は、台湾メーカーが熊本に（ X ）工場を建てたことでニュースになっていました。

問1 下線部①について、近年では日本が貿易立国であるということに疑義を呈する人も少なくはない。これについて、日本の輸出について述べた文章（A）・（B）と、輸入について述べた文章（C）・（D）組み合わせとして正しいものを選択肢から選び記号で答えなさい。

〈輸出〉

- （A）日本の輸出相手は、中国と韓国で40%弱を占めている
- （B）日本の額面上の主力輸出品は自動車や機械類、鉄鋼などの加工品である。

〈輸入〉

- （C）サウジアラビアやオーストラリアに原油や鉄鉱石の輸入を頼っている。
- （D）昭和の後期から、輸入額の増加により貿易赤字になる年度もある。

ア.（A）と（C） イ.（A）と（D） ウ.（B）と（C） エ.（B）と（D）

問2 下線部②について、京都市が観光客からも徴収している税金として正しいものを選択肢から選び、記号で答えなさい。

ア. 文化財保存税 イ. 入京税 ウ. 宿泊税 エ. 交通インフラ税

問3 空欄（ 1 ）～（ 3 ）に入る語句の組み合わせとして正しいものを選択肢から選び、記号で答えなさい。

	（ 1 ）	（ 2 ）	（ 3 ）
ア	円安	円高	安く買われている
イ	円高	円安	安く買われている
ウ	円安	円高	高く買われている
エ	円高	円安	高く買われている

問4 空欄（ X ）について、ここには現代社会で多くの機械に使用され、社会インフラの維持に不可欠となっているある素材の名称がはいる。その素材の名称を漢字3文字で記入しなさい。

解答用紙(1)

社 会															
問題番号		答の欄				採点欄	問題番号		答の欄				採点欄		
1	問1	ア	イ	ウ	エ	オ	カ	4	問2	緯	度	が	赤	道	か
	問2	ア	イ	ウ	エ				問3	い					
	問3	ア	イ	ウ	エ				問4 _a	あ	い	う	え		
2	問1	ア	イ	ウ	エ			問4 _b	あ	い	う	え			
	問2	ア	イ	ウ	エ			問4 _c	あ	い	う	え			
	問3	ア	イ	ウ	エ			問4 _d	あ	い	う	え			
	問4	ア	イ	ウ	エ			問1	ア	イ	ウ	エ			
	問5	ア	イ	ウ	エ			問2	ア	イ	ウ	エ			
	問6	ア	イ	ウ	エ			問3①	(熱帯) ア	イ	ウ	エ			
	問7	ア	イ	ウ	エ			問3①	(冷帯) ア	イ	ウ	エ			
	問8	ア	イ	ウ	エ			問3②	ア	イ	ウ	エ			
3	問1	A						6	問1	ア	イ	ウ	エ		
	問2(C)	エジプト							問2	ア	イ	ウ	エ		
	問2(D)	サウジアラビア							問3	ア	イ	ウ	エ		
	問3	欧	州	諸	国	が	植	7	問1	ア	イ	ウ	エ		
		民	地	支	配	し	た		問2	ア	イ	ウ	エ		
		際	、	人	為	的	国		問3	ア	イ	ウ	エ		
		境	が	ひ	か	れ	た		問4	知る権利					
		た	め	。					8	問1(A)	需要				
	問4	中東戦争						問1(B)		供給					
	問5	イスラム						問1(C)		均衡					
	問6	ア	メ	リ	カ	が	拒	問2		ア	イ	ウ	エ		
否		権	を	発	動	し	問1	ア	イ	ウ	エ				
て							問2	ア	イ	ウ	エ				
4	問1	<地図1>【特徴】	ア	イ	ウ			9	問3	ア	イ	ウ	エ		
		<地図1>【用途】	I	II	III				問4	半導体					
		<地図2>【特徴】	ア	イ	ウ										
		<地図2>【用途】	I	II	III										

受験番号		名前		得点	
------	--	----	--	----	--